

6. Reelle Funktionen und ihre graphische Darstellung

6.1 Rationale Funktionen

6.1.1 Lineare Funktionen

Definition:

Eine Funktion der Form

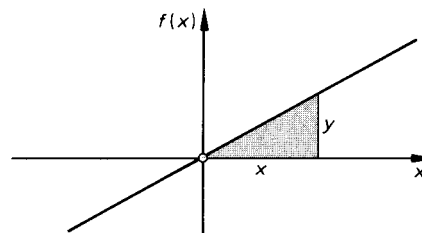
$$f: \mathbb{R} \rightarrow \mathbb{R}; x \mapsto a_1 x + a_0; a_1, a_0 \in \mathbb{R}$$

heißt *lineare Funktion*

Eine lineare Funktion hat also die Funktionsgleichung $y = a_1 x + a_0$. Bei der Darstellung des Graphen einer linearen Funktion in einem kartesischen Koordinatensystem erhalten wir eine Gerade. Im Spezialfall $a_0 = 0$ geht diese Gerade durch den Koordinatenursprung.

$$f(x) = a_1 x + a_0 \mid a_0 = 0 \Rightarrow f(x) = a_1 x$$

$\mathbb{G}(f)$: Nullpunktgerade



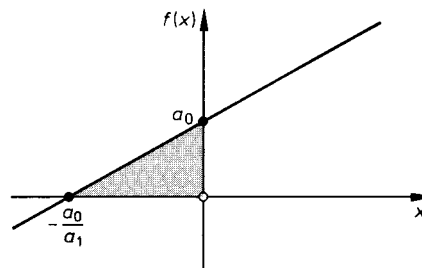
Wir wollen nun einige spezielle Werte zusammenstellen, die eine lineare Funktion bzw. ihren Graphen kennzeichnen.

1. Schnittpunkt mit der y-Achse

$$f(x) = a_1 x + a_0 \mid x = 0 \Rightarrow f(0) = a_0$$

2. Schnittpunkt mit der x-Achse

$$f(x) = a_1 x + a_0 \mid f(x) = 0 \Rightarrow x = -\frac{a_0}{a_1}$$



3. Steigung

Für die Koordinaten (x_1, y_1) und (x_2, y_2) zweier beliebiger Punkte des Graphen $\mathbb{G}(f)$ einer linearen Funktion gilt:

Wir werden dies im folgenden Beispiel nachweisen.

$$a_1 = \frac{y_2 - y_1}{x_2 - x_1} \text{ heißt Steigung}$$

$$\frac{y_2 - y_1}{x_2 - x_1} = a_1 \quad (\text{Steigung})$$

Beispiel:

Vom Graph einer linearen Funktion sind zwei Punkte $P_1(x_1, y_1)$ und $P_2(x_2, y_2)$ bekannt.

- Berechnen Sie die Steigung a_1 .
- Wie lautet die Funktionsgleichung?

Lösung:

- Die Koordinaten beider Punkte müssen die Funktionsgleichung erfüllen.

Wir erhalten daraus:

Die Steigung lautet:

- Von $y = a_1x + a_0$ muß noch a_0 bestimmt werden. Wir bestimmen a_0 als Koordinate des Punktes $P_3(0, a_0)$ mit Hilfe des Punktes P_1 .

$$a_1 = \frac{y_1 - a_0}{x_1 - 0} \Rightarrow a_0 = y_1 - a_1 x_1$$

mit $a_1 = \frac{y_2 - y_1}{x_2 - x_1}$.

$$y_2 = a_1 x_2 + a_0 \Leftrightarrow a_0 = y_2 - a_1 x_2$$

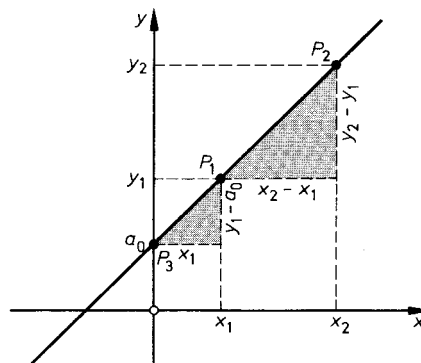
$$y_1 = a_1 x_1 + a_0 \Leftrightarrow a_0 = y_1 - a_1 x_1$$

$$y_2 - a_1 x_2 = y_1 - a_1 x_1$$

$$y_2 - y_1 = a_1 x_2 - a_1 x_1$$

$$a_1(x_2 - x_1) = y_2 - y_1$$

$$a_1 = \frac{y_2 - y_1}{x_2 - x_1}$$



Bestimmung der Funktionsgleichung einer Geraden aus zwei Punkten $P_1(x_1, y_1)$ und $P_2(x_2, y_2)$: $y = a_1x + a_0$,

$a_1 = \frac{y_2 - y_1}{x_2 - x_1}$	und	$a_0 = y_1 - a_1 x_1$
-------------------------------------	-----	-----------------------

Beispiel:

Vom Graph einer linearen Funktion seien zwei Punkte bekannt: $P_1(-8, -3)$, $P_2(4, 6)$. Zeichnen Sie den Graphen der Funktion und bestimmen Sie:

- die Steigung a_1 ,
- den Schnittpunkt P_3 mit der y -Achse,
- die Funktionsgleichung,
- den Schnittpunkt P_4 mit der x -Achse.

Lösung: a) $a_1 = \frac{y_2 - y_1}{x_2 - x_1} = \frac{6 - (-3)}{4 - (-8)} = \underline{\underline{\frac{3}{4}}}$

- b) Der Graph der Funktion schneidet die y -Achse im Punkt P_3 . Dieser Punkt hat die Koordinaten $x_3 = 0$ und y_3 . Die Gleichung für den Steigungsfaktor a_1 – auf die beiden Punkte P_2 und P_3 angewendet – lautet:

$$a_1 = \frac{y_2 - y_3}{x_2 - x_3}$$

Setzen wir die bekannten Zahlenwerte ein, so erhalten wir:

$$\frac{3}{4} = \frac{6 - y_3}{4 - 0}; \quad y_3 = 6 - 3 = 3.$$

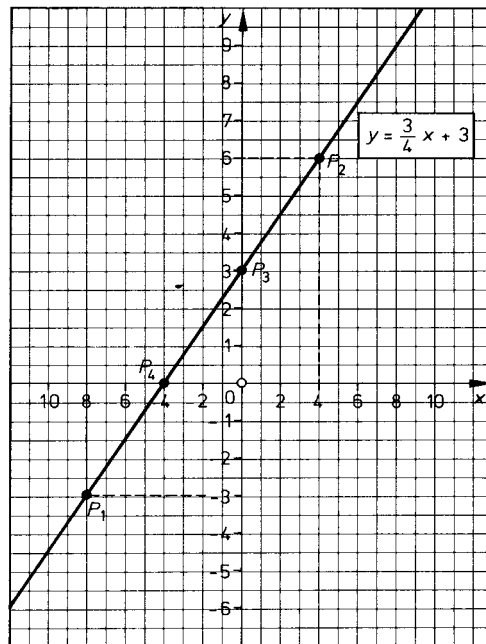
Es ist also $P_3(0, 3)$.

- c) Die Variable a_0 der Funktionsgleichung $y = a_1 x + a_0$ gibt an, an welcher Stelle der Graph der Funktion die y -Achse schneidet.

$$y = a_1 x + a_0$$

$$y = \frac{3}{4}x + 3 \quad \text{Funktionsgleichung}$$

- d) An der Stelle, an der der Graph der Funktion die x -Achse schneidet, hat die Funktion den Funktionswert $y = 0$.



$$0 = \frac{3}{4}x + 3$$

$$x = -\frac{3 \cdot 4}{3} = -4$$

Der Schnittpunkt mit der x -Achse hat die Koordinaten: $P_4(-4, 0)$

Die Funktion $f: \mathbb{R} \rightarrow \mathbb{R}; x \mapsto a_1 x + a_0$ ist *injektiv*, da für alle $x \in \mathbb{R}$ gilt:

$$x_1 \neq x_2 \Rightarrow f(x_1) \neq f(x_2).$$

Aus diesem Grunde ist die Funktion f umkehrbar.

Satz:

Zu jeder linearen Funktion f existiert eine Umkehrfunktion f^{-1} .

$f: \mathbb{R} \rightarrow \mathbb{R}; x \mapsto a_1 x + a_0$ $\Rightarrow f^{-1}: \mathbb{R} \rightarrow \mathbb{R}; x \mapsto \frac{f(x) - a_0}{a_1}$
$a_1 \neq 0$

Beispiel:

Gegeben sei die Funktion $f: x \mapsto -\frac{1}{2}x + 1; x \in [-2, 6]$.

- a) Bilden Sie die Umkehrfunktion f^{-1} , und bestimmen Sie $D(f^{-1})$ und $W(f^{-1})$.
- b) Zeichnen Sie die Graphen von f und f^{-1} .

Lösung:

- a) Bei Umbenennung der Variablen gilt:

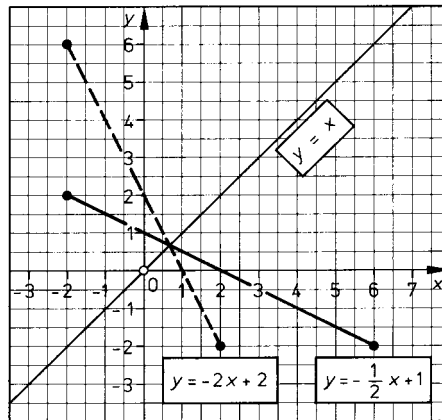
$D(f^{-1})=W(f)$ und $W(f^{-1})=D(f)$.
Die Umkehrfunktion f^{-1} erhalten wir durch Umstellen der Gleichung von f nach x und durch Umbenennen der Variablen.

- b) Die Graphen von f und f^{-1} spiegeln sich an der Geraden mit der Gleichung $y = x$.

Wertetabelle:

	x	-2	0	2	6
f	$y = -\frac{1}{2}x + 1$	2	1	0	-2
f^{-1}	$y = -2x + 2$	6	2	-2	-10

$$D(f) = [-2, 6]; \quad W(f) = [-2, 2]$$
$$D(f^{-1}) = [-2, 2]; \quad W(f^{-1}) = [-2, 6]$$
$$f: y = -\frac{1}{2}x + 1 \Leftrightarrow x = -2y + 2 \Rightarrow f^{-1}: y = -2x + 2$$
$$f^{-1}: [-2, 2] \rightarrow [-2, 6]; x \mapsto -2x + 2$$



Aufgaben:

1. Zeichnen Sie den Graphen der Funktion:

a) $y = \frac{1}{2}x - 2$

c) $y = \frac{1}{2}x + 3$

e) $y = -\frac{3}{2}x - \frac{1}{2}$

b) $y = \frac{1}{2}x + 1$

d) $y = 2x + 3$

f) $y = -\frac{2}{5}x + \frac{3}{2}$

2. Geben Sie die Steigung der Geraden und die Schnittpunkte der Geraden mit der x- und y-Achse aus Aufgabe 1. an.

3. Geben Sie die Steigung der Geraden an, die durch die Punkte P_1 und P_2 geht.

a) $P_1(1/3); P_2(2/5)$

d) $P_1(-4/-2); P_2(-2/-6)$

b) $P_1(-1/1); P_2(0/-4)$

e) $P_1(-12/-18); P_2(-8/+8)$

c) $P_1(-2/-1); P_2(1/1)$

f) $P_1(1/6); P_2(0/0)$

4. Geben Sie die Funktionsgleichung der Geraden an, deren Schnittpunkte S_x und S_y mit der x- und y-Achse bekannt sind:

a) $S_x(-\frac{1}{2}/0); S_y(0/1)$

d) $S_x(-\frac{1}{3}/0); S_y(0/-\frac{1}{2})$

b) $S_x(-4/0); S_y(0/\frac{1}{2})$

e) $S_x(-12/0); S_y(0/6)$

c) $S_x(\frac{2}{5}/0); S_y(0/2)$

f) $S_x(\frac{2}{3}/0); S_y(0/-2)$

5. Geben Sie die Funktionsgleichung der Geraden an, die durch Punkte P_1 und P_2 aus Aufgabe 3. festgelegt sind.

6. Ein Motorradfahrer fährt um 9 Uhr von einem Ort ab; er hält eine Durchschnittsgeschwindigkeit von 45 km/h. $\frac{1}{4}$ Stunde später fährt ein zweiter Motorradfahrer mit 60 km/h vom selben Ort in der gleichen Richtung los.

a) Stellen Sie die Funktionsgleichungen $s_1 = f(t)$ und $s_2 = g(t)$ auf.

b) Zeichnen Sie die Weg-Zeit-Diagramme.

c) Wo und wann treffen sich die beiden Motorradfahrer?

7. Zwei Pkw-Fahrer fahren von zwei Orten, deren Entfernung 150 km beträgt, einander entgegen. Der erste legt 60 km/h zurück, der zweite 75 km/h.

a) Stellen Sie die Funktionsgleichungen $s_1 = f(t)$ und $s_2 = g(t)$ auf.

b) Zeichnen Sie die Weg-Zeit-Diagramme.

c) Wo treffen sich die beiden Wagen?

1. Bestimmen Sie die Steigung der Funktion, die Gleichungen von Funktion und Umkehrfunktion 1. Grades, wenn jeweils zwei Punkte gegeben sind. Zeichnen Sie die Graphen; $x \in \mathbb{R}$:

a) $P_1(1, 3); P_2(-4, -2)$

b) $P_1(-1, -1); P_2(3, -5)$

c) $P_1(0, 4); P_2(3, 10)$

d) $P_1(0,5; 0); P_2(-2, 1\frac{1}{4})$

e) $P_1(4, 4); P_2(-4, 4)$

f) $P_1(3, 6); P_2(3, 0)$